

Méthode – Le schéma spatialisé

Les espaces de l'industrie en France

1 Analyser le sujet

- Notez les mots-clés du sujet et précisez leur sens. Que devra montrer le schéma ?

.....

.....

.....

.....

2 Sélectionner les informations dans le texte

- Sélectionnez les informations pertinentes répondant au sujet.

Notez les informations montrant que la France est un territoire inégalement industrialisé, dans le premier paragraphe :

.....

.....

.....

.....

Notez les informations montrant les dynamiques de recomposition des espaces industriels, dans le deuxième paragraphe :

.....

.....

.....

.....

Notez les informations évoquant les facteurs d'intégration aux espaces européens et mondiaux, dans le troisième paragraphe :

.....

.....

Conseil







À partir des mots-clés du sujet et des intertitres, posez-vous des questions auxquelles répondront les informations du texte.

- **Soulignez le nom des lieux permettant de localiser ces informations sur le schéma.**

3 Passer du texte à la légende du schéma

- **Organisez la légende en trois parties, en reprenant les intertitres du texte proposé.**
- **Classez les informations sélectionnées dans chacune de ces parties.**
- **Représentez les informations par des figurés.**

Associez chacun des figurés suivants à l'information qui lui correspond :

					
•	•	•	•	•	•
•	•	•	•	•	•
Zones industialo- portuaires	Pôles de compétitivité	Route maritime majeure	Régions peu ou pas industrialisées	Métropoles	Régions d'industries traditionnelles en reconversion

4 Réaliser le schéma

Sur le fond de schéma fourni :

- Écrivez le titre du schéma en reprenant le sujet.
- Dessinez les figurés choisis.
- Indiquez le nom des lieux évoqués dans le texte (la nomenclature).